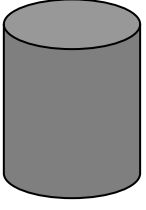


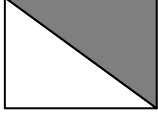
# KESİRLER




Aşağıdaki şekillerin ne kadarı boyanmıştır. Örneği incele ve ona göre diğerlerini de sen yap.



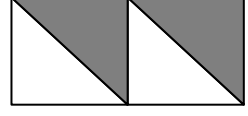
.. 1 Bütün..




.....



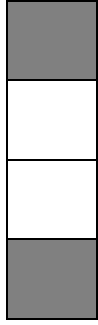
.....




.....



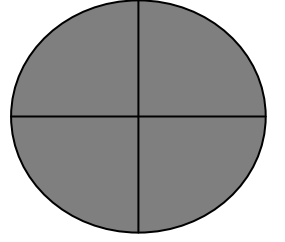
.....



.....



.....



.....



Aşağıdaki soruları oku Çiz ve cevapla.

1.) İki yarım ekmek kaç çeyrek ekmek yapar?

2.) İki deste elmanın yarısı kaçtır?

3.) 8 çeyrek kaç bütün yapar?

4.) Üç bütünde kaç çeyrek vardır?

5.) 4 yarım silgi kaç bütün silgi yapar?

6.) Bir düzine kalemin yarısı kaçtır?